

ตอนที่ 1 ความสามารถทางด้านเหตุผล

ข้อ 1-5 พิจารณาเลือกคำที่เข้าพวกกับกลุ่มที่กำหนดให้

1. ฟุต เมตร หลา

- 1) วา 2) กรัม 3) ลิตร 4) กิโลกรัม

ตอบ 1 ฟุต เมตร หลา และวา เป็นมาตรการวัด แต่ กรัม ลิตร กิโลกรัมเป็นมาตรการชั่งตวง

2. น้อยหน้า แดงโม มะละกอ

- 1) มะพร้าว 2) ขนุน 3) เงาะ 4) สับปะรด

ตอบ 2 ขนุนเป็นผลไม้ประเภทเดียวกัน น้อยหน้า แดงโม มะละกอ เนื่องจากใช้เกณฑ์ผลไม้ที่มีเมล็ดภายในมากกว่า 1

3. พริก กระเทียม หัวหอม.....

- 1) ผักกาดขาว 2) แดงกวา 3) มะเขือเทศ 4) ตะไคร้

ตอบ 4 พริก กระเทียม หัวหอม ตะไคร้ เป็นพืชที่ใช้เป็นเครื่องเทศ

4. ฆ้อง กลอง ขิม

- 1) ฉิ่ง 2) กรับ 3) ระนาด 4) ฉาบ

ตอบ 3 ฆ้อง กลอง ขิม ระนาด เป็นเครื่องดนตรีที่เล่นโดยใช้ไม้ตี 1), 2) และ 4) เล่นโดยใช้ตัวเครื่องดนตรีตีกันเอง

5. โต้ะ เตียง เก้าอี้.....

- 1) ตู้ 2) ตั่ง 3) กล้อง 4) ลิ่นชัก

ข้อ 6-10 พิจารณาเลือกคำที่ไม่เข้าพวกกับคำอื่นๆ

6. 1) กอล์ฟ 2) วิ่ง

3) ปิงปอง 4) กระโดดสูง

ตอบ 3 กอล์ฟ วิ่ง และกระโดดสูง เป็นกีฬาที่เล่นได้คนเดียว ซึ่งตรงกันข้ามกับปิงปองที่ต้องเล่น 2 คนขึ้นไป

7. 1) ฉันทพล 2) กิน
3) รับประทาน 4) คืม

ตอบ 4 ฉันทพล กิน รับประทาน มีความหมายเหมือนกัน คือ กิน

8. 1) ฟูกัน 2) ปากกา
3) ดินสอ 4) ซอส์ก

ตอบ 1 ฟูกันต้องใช้ร่วมกับสีจึงจะใช้ได้ แต่ปากกา ดินสอ และซอส์ก สามารถใช้ได้เลย

9. 1) ต้มยำ 2) ขนมหิน
3) ขนมหาด 4) ปลาทอด

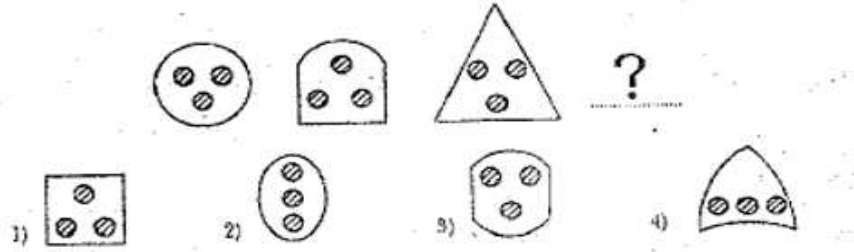
ตอบ 3 ขนมหาดเป็นอาหารหวาน ต้มยำ ขนมหิน และปลาทอดเป็นอาหารคาว

10. 1) ดิน 2) อิฐ
3) กรวด 4) ทราช

ตอบ 2 ดิน กรวด ทราช เกิดขึ้นเองตามธรรมชาติ อิฐเป็นสิ่งที่มนุษย์สร้างขึ้น

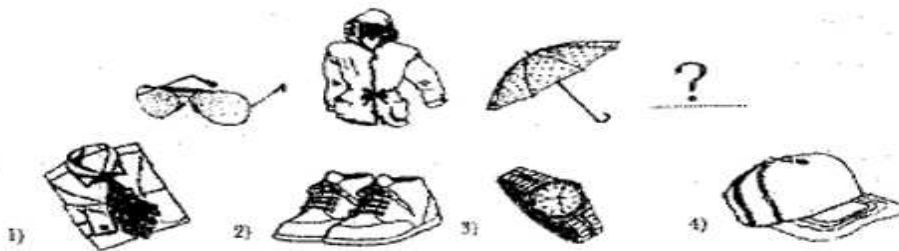
พิจารณาเลือกภาพที่เข้ากับภาพที่กำหนดให้

11.



ตอบ 1 คู่ลักษณะวงกลมเล็ก 3 วง ซึ่งแรเงาอยู่ภายใน จะสลับกันขึ้นเอง

12.



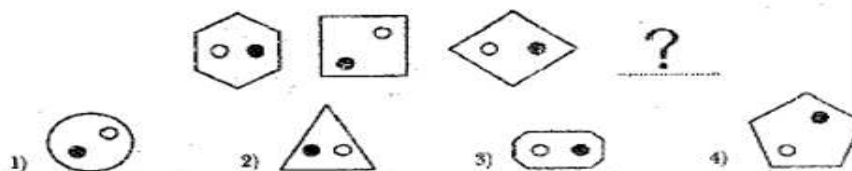
ตอบ 4 หมวกช่วยกันแดด

แว่นตาช่วยกันแดด

เสื้อกันฝนช่วยกันฝน

ร่มช่วยกันแดด

13.



ตอบ 1 ดูจากลักษณะวงกลมภายในทั้ง 2 วง จะอยู่ในแนวนอนและแนวเฉียง การแรเงาจะสลับกัน

ข้อ 14-16 พิจารณาเลือกภาพที่ไม่เข้าพวกกับภาพอื่นๆ

14.



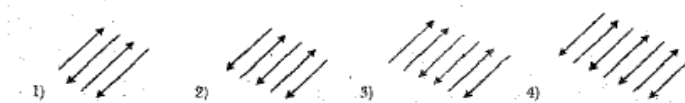
ตอบ 2 ปลาฉลามเป็นสัตว์น้ำอาศัยอยู่ในน้ำจืด ปลาฉลาม ปลาฉลาม ปลาฉลาม อาศัยอยู่ในน้ำเค็ม

15.



ตอบ 4 รูปเรขาคณิตที่อยู่ข้างในจะแตกต่างจากรูปข้างนอก

16.



ตอบ 3 หัวลูกศรไม่ได้สลับขึ้นลงเหมือนข้ออื่นๆ

ข้อ 17-19 จงเลือกข้อคำตอบที่ถูกต้อง

17. ตู๋ยสูงกว่ำเต้า แต่เตี้ยกว่ำต้อย ต้มเตี้ยกว่ำต้อย สรุปรว่ำ

- 1) ตู๋ยสูงที่สุด
- 2) เต้าเตี้ยที่สุด
- 3) ต้มเตี้ยที่สุด
- 4) ต้อยสูงที่สุด

ตอบ 4 ต้มอาจจะสูงหรือเตี้ยกว่ำเต้าก็ได้

ต้อย	สูงกว่ำ	ต้อย	สูงกว่ำ	เต้า, ต้ม
------	---------	------	---------	-----------

18. เมื่อวานขึ้นเป็นวันพุธ วันมะรืนเป็นวันที่ 18 วันที่ 25 จะเป็นวันอะไร

- | | |
|------------|-----------|
| 1) อาทิตย์ | 2) จันทร์ |
| 3) ศุกร์ | 4) เสาร์ |

ตอบ 1 วันมะรืนตรงกับวันที่ 18 แสดงว่าวันนี้เป็นวันที่ 16 ขณะที่เมื่อวานขึ้นเป็นวันพุธ แสดงว่าวันนี้เป็นวันศุกร์ นั่นคือวันที่ 16 ตรงกับวันศุกร์ ฉะนั้นวันที่ 25 จะตรงกับวันอาทิตย์

19. คนทุกคนถ้าวิ่งแล้วเหงื่อออก ถ้าง้อออกแล้วจะค่อมน้ำ ชงช้วยิ่ง สรูปได้ว่า

- | | |
|------------------------|------------------------|
| 1) ชงช้วยิ่งค่อมน้ำ | 2) ชงเหงื่อออก |
| 3) ชงช้วยิ่งไม่ค่อมน้ำ | 4) ยังสรุปแน่นอนไม่ได้ |

ข้อ 20-22 พิจารณาเลือกกลุ่มคำที่เป็นตัวรวมของกลุ่มคำที่กำหนดให้

20. อวน สวิง โพงพาง

- | | | | |
|---------|------------|------------|------------|
| 1) ขนาด | 2) หน้าที่ | 3) รูปร่าง | 4) วิธีใช้ |
|---------|------------|------------|------------|

ตอบ 2 อวน สวิง โพงพาง มีหน้าที่เหมือนกัน คือ ใช้จับปลา

21. เครื่องบิน เรือ รถยนต์

- | | | | |
|---------|------------|-------------|--------------|
| 1) ขนาด | 2) รวดเร็ว | 3) ประโยชน์ | 4) ความสำคัญ |
|---------|------------|-------------|--------------|

ตอบ 3 เครื่องบิน เรือ รถยนต์ คือ ใช้ในการเดินทางและขนส่ง

22. ปากีสถาน อินโดนีเซีย บรูไน

- | | | | |
|------------|---------|---------------|----------|
| 1) ที่ตั้ง | 2) ภาษา | 3) การแต่งกาย | 4) ศาสนา |
|------------|---------|---------------|----------|

ตอบ 4 ปากีสถาน อินโดนีเซีย บรูไน ต่างก็เป็นประเทศที่นับถือศาสนาอิสลาม

ข้อ 23- 28 พิจารณาเลือกคำที่มีความหมายสัมพันธ์กัน เหมือนคำคู่ที่กำหนดให้

23. นายกรัฐมนตรี รัฐมนตรีว่าการกระทรวง สมาชิกสภาผู้แทนราษฎร

- | | | | |
|--------------|------------|---------|--------|
| 1) ความสำคัญ | 2) ความรู้ | 3) อายุ | 4) เพศ |
|--------------|------------|---------|--------|

ตอบ 1 นายกรัฐมนตรีมีความสำคัญสูงสุด

24. ไอทีวี สถานีโทรทัศน์ช่อง 3 สถานีโทรทัศน์ช่อง 7

- 1) ภาพและเสียง 2) ความบันเทิง 3) สไลด์แกน 4) สื่อมวลชน

ตอบ 3 ไอที วีวีเสรี

คุ่มค่าทุกนาที่ ดูทีวีสีช่อง 3

ช่อง 7 สี ทีวีเพื่อคุณ

25. ผู้เขียน พดลม โทรทัศน์

- 1) ปลักเสียบ 2) ราคา
3) อำนวยความสะดวก 4) เครื่องใช้ไฟฟ้า

ตอบ 2 พดลมจะมีราคาถูกกว่าผู้เขียนและโทรทัศน์

ข้อ 26-28 พิจารณาเลือกคำที่มีความหมายสัมพันธ์กัน เหมือนคำคู่ที่กำหนดให้

26. กาญจนบุรี: เพชรบุรี → ภูเก็ต : ?

- 1) ระนอง 2) ลำปาง 3) เพชรบูรณ์ 4) นครราชสีมา

ตอบ 1 กาญจนบุรีและเพชรบุรีอยู่ในภาคตะวันตก ภูเก็ตจึงคู่กับระนอง ซึ่งอยู่ภาคใต้เหมือนกัน ลำปางและเพชรบูรณ์อยู่ในภาคเหนือ นครราชสีมาอยู่ในภาคตะวันออกเฉียงเหนือ (ภาคอีสาน)

27. พดลม : ความร้อน → ? : ?

- 1) วิทย์ : เสี่ยง 2) หนังสือ : ความรู้
3) ผู้เขียน : ความเขียน 4) เครื่องดูดฝุ่น : ความสกปรก

ตอบ 4 พดลมใช้ระบายความร้อนให้หมดไป ซึ่งเป็นลักษณะเดียวกับเครื่องดูดฝุ่นที่ช่วยกำจัดความสกปรก

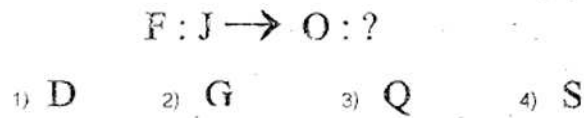
28. หมวกกันน็อก : มอเตอร์ไซด์ → ? : ?

- 1) ขางรถยนต์ : รถยนต์ 2) กด่องเก็บเงินของกระเป๋ารดเมล์ : รดเมล์
3) ห่วงยาง : เรือ 4) ที่สูบลม : รถจักรยาน

ตอบ 3 หมวกกันน็อกเป็นอุปกรณ์ป้องกันเมื่อขับมอเตอร์ไซด์ และในเรือก็มีห่วงยางอุปกรณ์ช่วยชีวิต

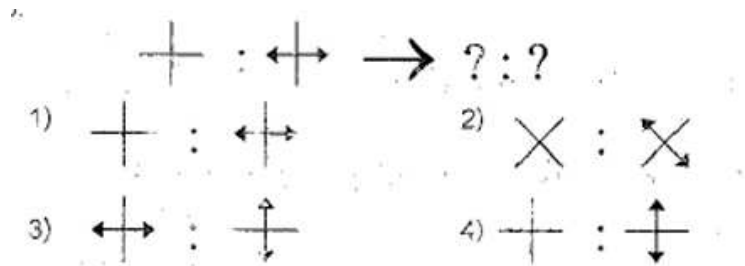
ข้อ 29-30 พิจารณาเลือกภาพภาพที่มีความสัมพันธ์เหมือนภาพคู่ที่กำหนดให้

29.



ตอบ 4 ระหว่าง F ถึง J จะมีตัวอักษรห่างกัน 3 ตัว คือ G H J และ นั้น O จึงควรจะมีตัวอักษรห่างกัน 3 ตัว เช่นกัน คือ P Q R คำตอบได้ คือ S

30.



ตอบ 2

ตอนที่ 2 ความสามารถทางด้านตัวเลข

ข้อ 31-40 พิจารณาว่าจำนวนใดเมื่อนำมาแทนใน □ แล้วได้อนุกรมที่ถูกต้อง

31. 51 44 □ 33 29 □

1) 47,22

2) 39,20

3) 38,26

4) 53,21

ตอบ 3

วิธีคิด 51 - 7 = 44

$$(44 - 7) + 1 = \boxed{38}$$

$$(38 - 7) + 2 = 33$$

$$(39 - 7) + 3 = \boxed{29}$$

$$(29 - 7) + 4 = 26$$

32. 48 □ 44 41 □ 37 34 □ 30

1) 46,39,32

2) 45,39,30

3) 46,38,92

4) 47,38,30

ตอบ 1

วิธีคิด $48 - 2 = \boxed{46}$

$$46 - 2 = 44$$

$$44 - 3 = 41$$

$$41 - 2 = \boxed{39}$$

$$39 - 2 = 37$$

$$37 - 2 = 34$$

$$34 - 2 = \boxed{32}$$

$$32 - 2 = 30$$

33.

5	11	17
9	15	□

1) 20

2) 21

3) 22

4) 23

ตอบ 2 อนุกรมตามแนวนอนเป็นอนุกรมที่บวกด้วย 6



34.

14	7	21
16	8	-
18	□	27

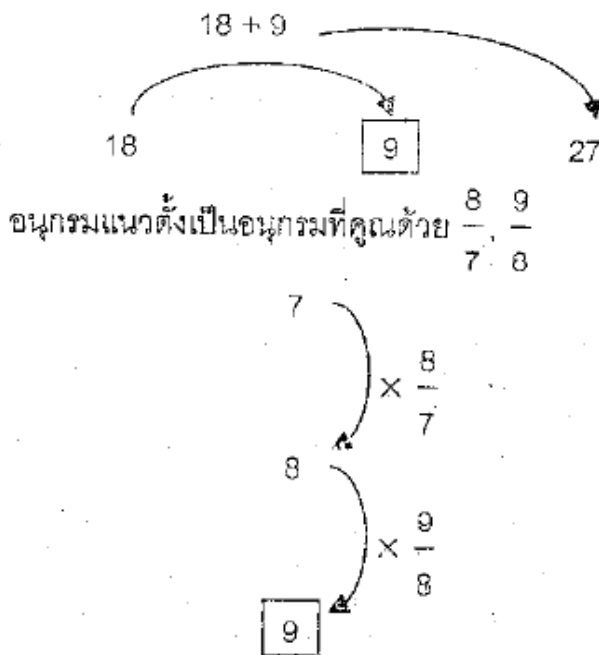
1) 7

2) 8

3) 9

4) 11

ตอบ 3 อนุกรมแนวนอนเป็นอนุกรมบวกตัวคู่กัน



35. 8 20 17 40 36 80 □

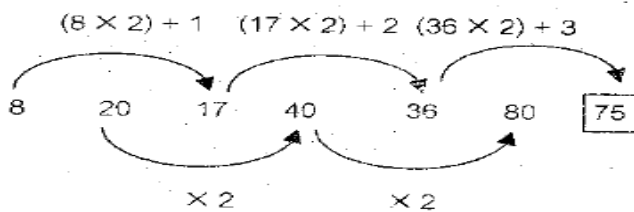
1) 68

2) 70

3) 73

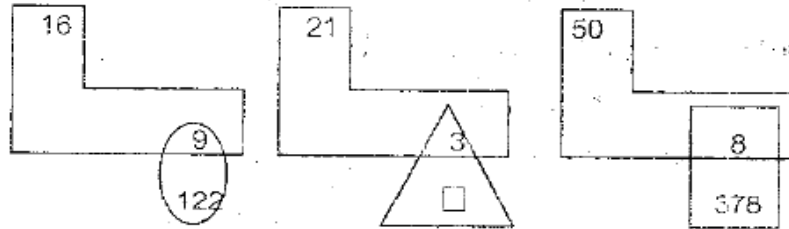
4) 75

ตอบ 4 อนุกรมชุดแรกเป็นอนุกรมที่คูณด้วย 2 แล้วบวกด้วย 1, 2, 3



อนุกรมชุดสองเป็นอนุกรมที่คูณด้วย 2

36.



- 1) 23 2) 36 3) 39 4) 41

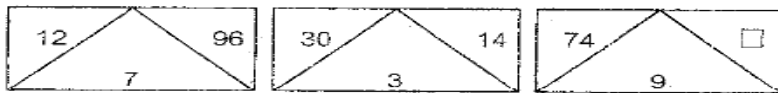
ตอบ 4

วิธีคิด $(6 \times 9) - 22 = 122$

$(21 \times 3) - 22 = \boxed{41}$

$(50 \times 8) - 22 = 378$

37.



- 1) 542 2) 621 3) 702 4) 894

ตอบ 3

วิธีคิด

$(\text{อนุกรมบนซ้าย} \times \text{อนุกรมข้างล่าง}) + (1)12 \Rightarrow (12 \times 7) + 12 = 96$

$(\text{อนุกรมบนซ้าย} \times \text{อนุกรมข้างล่าง}) + (2)12 \Rightarrow (30 \times 3) + 24 = 114$

$(\text{อนุกรมบนซ้าย} \times \text{อนุกรมข้างล่าง}) + (3)12 \Rightarrow (74 \times 9) + 36 = 702$

38. 121 11 100 10 81 □

- 1) 9 2) 11 3) 13 4) 15

ตอบ 1 121 ถอดรากที่สองได้ 11

100 ถอดรากที่สองได้ 10

81 ถอดรากที่สองได้ 9

39. $\frac{7}{13}$ $\frac{9}{12}$ $\frac{25}{10}$ $\frac{49}{7}$ □

1) $\frac{64}{7}$

2) $\frac{61}{7}$

3) $\frac{61}{3}$

4) $\frac{61}{3}$

ตอบ 4 ตัวเศษใช้ 1, 3, 5, 7 ยกกำลัง 2

$(1)^2 = 1$, $(3)^2 = 9$, $(5)^2 = 25$, $(7)^2 = 49$

ตัวส่วนลบออกทีละ 1, 2, 3 ตามลำดับ

$13 - 1 = 12$

$12 - 2 = 10$

$10 - 3 = 7$

40. 216 15 72 45 24 135 □

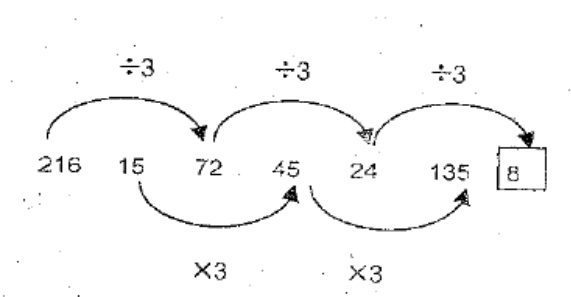
1) 6

2) 8

3) 10

4) 12

ตอบ 2 อนุกรมชุดแรกเป็นอนุกรมที่หารด้วย 3



อนุกรมชุดที่สองเป็นอนุกรมที่คูณด้วย 3

ข้อ 41-44 พิจารณาอนุกรมตัวเลขที่กำหนดให้แล้วเลือกเลขไม่ถูกต้องตามอนุกรม

41.

อนุกรมที่หนึ่ง	3	10	17	21
อนุกรมที่สอง	21	15	11	9
ผลรวมเมื่ออนุกรมถูก = 108				

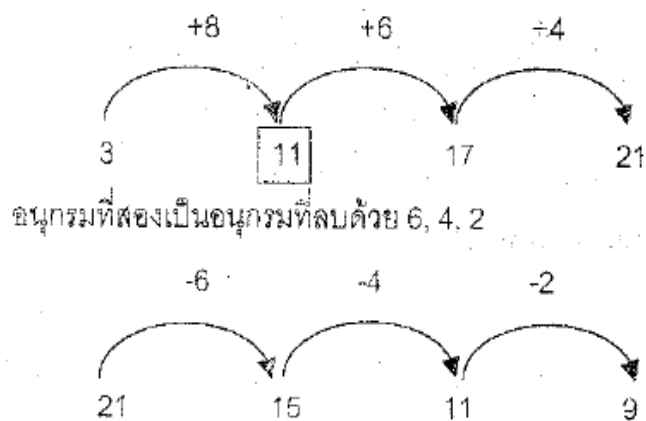
1) 3

2) 10

3) 17

4) 21

ตอบ 2 อนุกรมที่หนึ่งเป็นอนุกรมที่บวกด้วย 8, 6, 4



∴ ตัวที่ผิด คือ 10 ซึ่งต้องเป็น 11

จึงจะได้ $3 + 11 + 17 + 21 + 15 + 11 + 9 = 108$

42.

อนุกรมที่หนึ่ง	4	6	12	19
อนุกรมที่สอง	13	11	7	1
ผลรวมเมื่ออนุกรมถูก = 74				

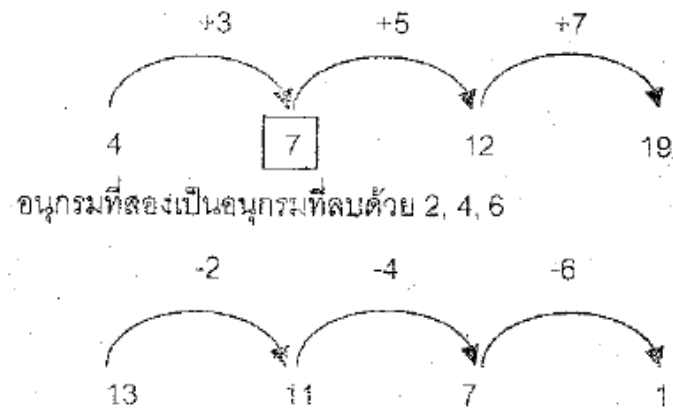
1) 6

2) 7

3) 11

4) 12

ตอบ 2 อนุกรมที่หนึ่งเป็นอนุกรมที่บวกด้วย 3, 5, 7



∴ ตัวที่ผิด คือ 6 ซึ่งต้องเป็น 7

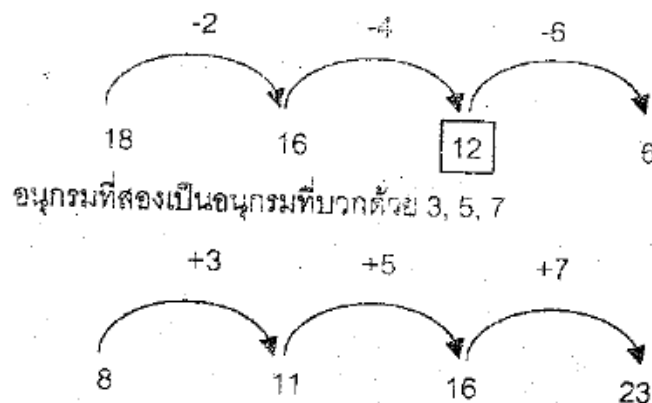
จึงจะได้ $4 + 7 + 12 + 19 + 13 + 11 + 7 + 1 = 74$

43.

อนุกรมที่หนึ่ง	18	16	12	6
อนุกรมที่สอง	8	11	16	23
ผลรวมเมื่ออนุกรมถูก = 10				

- 1) 8 2) 10 3) 11 4) 23

ตอบ 2 อนุกรมที่หนึ่งเป็นอนุกรมที่ลบด้วย 2, 4, 6



∴ ตัวที่ผิด คือ 10 ซึ่งต้องเป็น 12

จึงจะได้ $18 + 16 + 12 + 6 + 8 + 11 + 16 + 23 = 100$

44.

อนุกรมที่หนึ่ง	2	7	13	20	28
อนุกรมที่สอง	8	11	16	22	15

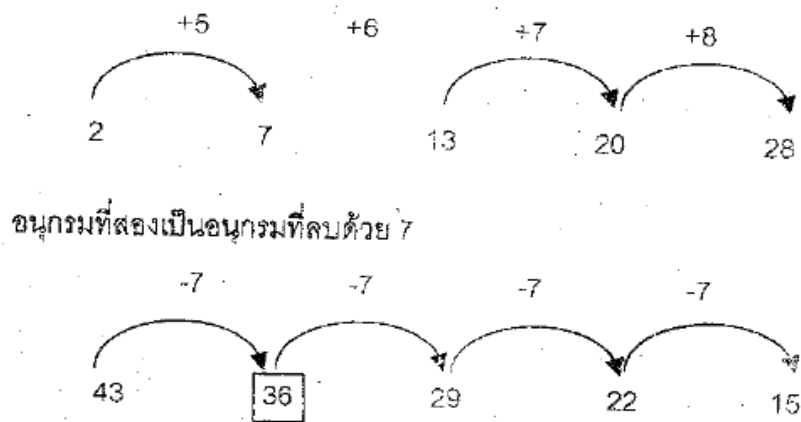
1) 20

2) 28

3) 29

4) 35

ตอบ 4 อนุกรมที่หนึ่งเป็นอนุกรมที่บวกด้วย 5, 6, 7, 8



45. จากข้อความที่กำหนดให้ตัวเลือกข้อใดถูกต้อง

☆ มีค่าเป็น 13 เท่าของ 2

* มีค่าเป็น $\frac{21}{2}$ เท่าของ 14

คอลัมน์ ก	คอลัมน์ ข
$* + (2 \times ☆)$	$(* + ☆) \times 2$

1) ผลลัพธ์ในคอลัมน์ ก มีค่ามากกว่าคอลัมน์ ข

2) ผลลัพธ์ของทั้งสองคอลัมน์เท่ากัน

3) ผลลัพธ์ในคอลัมน์ ข มีค่ามากกว่าคอลัมน์ ก

4) ข้อมูลที่ให้ไม่เพียงพอต่อการเปรียบเทียบ

ตอบ 3 ☆ มีค่าเป็น 13 เท่าของ 2

$$\text{คือ } 13 \times 2 = 26$$

* มีค่าเป็น $\frac{21}{2}$ เท่าของ 14

$$\text{คือ } \frac{21}{2} \times 14 = 147$$

คอลัมน์ ก * + (2 x ☆)

$$(147 + 26) \times 2 = 346$$

ผลลัพธ์ในคอลัมน์ ข มีค่ามากกว่าคอลัมน์ ก

46. เมื่อนำ 2 ไปลบจาก a จะมีค่าเท่ากับ 7 และถ้านำ 2 ไปบวกกับ b จะมีค่าเท่ากับ a จงหาว่า a มีค่าเท่าใด

1) 5

2) 9

3) 11

4) 15

ตอบ 2 $a - 2 = 7$

$$a = 9$$

$$b + 2 = 9$$

$$b = 7$$

47. ดิ๊คอายุมากกว่าเต้า 5 ปี เต้าแก่กว่านัท 3 ปี นัทอายุอ่อนกว่าแอน 2 ปี และดิ๊คอายุอ่อนกว่าอู๋ 1 ปี ถ้านัทอายุ 38 ปี ดิ๊คจะมีอายุเท่าใด

ตอบ 3 สมมติให้ดิ๊คอายุ x ปี

สมมติให้ดิ๊คอายุ y ปี

สมมติให้ดิ๊คอายุ z ปี

ดิ๊คอายุมากกว่าเต้า 5 ปี ดิ๊คอายุ x ปี ดังนั้น $x = y + 5$

เต้าแก่กว่านัท 3 ปี เต้าอายุ y ปี ดังนั้น $y = z + 3$

จากโจทย์กำหนดให้หน้าทอายุ 38 ปี

$$\text{ดังนั้น } y = 38 + 3$$

$$y = 41 \text{ ปี}$$

แทนค่า y ในสมการที่ 1

$$x = y + 5$$

$$x = 41 + 5$$

$$= 46$$

ถ้าหน้าทอายุ 38 ปี เด็กจะมีอายุ 46 ปี

48. เลขสองจำนวนเมื่อบวกกันได้ผลบวกเป็น 108 ถ้าจำนวนหนึ่งเท่ากับ 52 ผลคูณของสองจำนวนนั้นเป็นเท่าใด

1) 2,912

2) 2,913

3) 3,085

4) 3,086

ตอบ 1 $x + y = 108$

ให้ x เท่ากับ 52

$$52 + y = 108$$

$$y = 108 - 52$$

$$= 56$$

ผลคูณของทั้งสองจำนวน คือ $52 \times 56 = 2,912$

49. เมื่อ 10 ปีที่แล้ว น้อยอายุ x ปี อีก a ปี น้อยจะอายุเท่าใด

1) $(x - 10) + a$ ปี

2) $x - 12 - a$ ปี

3) $(10 - x) + a$ ปี

4) $x - 12 - a$ ปี

ตอบ 4 “เมื่อ 10 ปีที่แล้ว น้อยอายุ x ปี”

$$\text{ปัจจุบัน น้อยมีอายุ} = x + 10 \text{ ปี}$$

$$\text{อีก } a \text{ ปี น้อยจะอายุ} = \text{อายุปัจจุบัน} + a$$

3) เมื่อ c เท่ากับ 3

4) ไม่มีคำตอบที่ถูกต้อง

ตอบ 1 เมื่อ c เป็นจำนวนนับ $\frac{6}{c}$ จะมีค่ามากกว่า 2 เมื่อ c น้อยกว่า 3

$$\text{เช่น } \frac{6}{1} = 6$$

ตอนที่ 3 ความสามารถด้านภาษา

ข้อ 56 - 60 จงหาคำที่ตรงข้ามกับคำที่กำหนดให้

56. มะม่วงต้นนี้ดกทั้งปี

- 1) ใหญ่ 2) มาก 3) น้อย 4) เล็ก

ตอบ 3 ดก มีความหมายว่า มาก ดังนั้นจึงตรงข้ามกับน้อย

57. บวรกับปัญญามักมีเรื่องบาดหมางกันอยู่เสมอ

- 1) รักใคร่ 2) สนิทสนม 3) ทะเลาะวิวาท 4) สามัคคี

ตอบ 2 บาดหมาง มีความหมายว่า โกรธเคืองกัน หมางใจกัน ผิดใดกัน จึงมีความหมายตรง

กับ สนิทสนม ซึ่งมีความหมายว่า เข้ากันพอดี ชอบพอ คู่กันดี

58. งานนิทรรศการวันนี้ผู้คนแออัดมาก

- 1) บางตา 2) ชุลมุน 3) วุ่นวาย 4) หนาแน่น

ตอบ 1 แออัด มีความหมายว่า มาก หนาแน่น ซึ่งตรงข้ามกับคำว่า บางตา

59. หลวงพ่อจำวัดอยู่ในกุฏิ

- 1) อาน้ำ 2) นอนหลับ 3) ตื่น 4) สวดมนต์

ตอบ 3 จำวัด มีความหมายว่า นอนหลับ คำที่ตรงข้ามคือ ตื่น

60. ศูนย์การค้าตัวนั้นเป็นศูนย์จราจรจัด

- 1) มีคนเลี้ยง 2) มีเจ้าของ 3) มีปลอกคอ 4) มีคนดูแล

ตอบ 2 จรจัด มีความหมายว่า ไม่มีที่อยู่เป็นหลักแหล่ง คำที่ตรงข้ามคือ มีเจ้าของ

ข้อ 61 – 65 จงหาคำตอบที่มีความหมายใกล้เคียงกับคำที่กำหนดให้

61. ยโส

- 1) เกเร 2) นักเลง 3) เกะกะ 4) อวดดี

ตอบ 4 ยโส มีความหมายว่า เย่อหยิ่ง อวดดี

62. กันดาร

- 1) อดอยาก 2) แห้งแล้ง 3) ยากจน 4) ขาดแคลน

ตอบ 2 กันดาร มีความหมายว่า อดคัด ฝืดเคือง ลำบาก แห้งแล้ง

63. คุณแม่อุ่นแกงจัดให้น้อง

- 1) ซีด 2) เย็น 3) ร้อน 4) เดือด

ตอบ 3 อุ่น คือ การทำให้ร้อนขึ้น

64. ผู้หญิงคนนั้นร่วงโรยไปมาก

- 1) เสื่อม 2) ท้อแท้ 3) เสรีโศก 4) ทрудโทรม

ตอบ 1 ร่วงโรย มีความหมายว่า เสื่อมไป ลึนไป ลึนไป เชี่ยวไป

65. เสื้อของเด็กที่ยืนอยู่ริมฟุตบอลคู่ว้าคร่ำเหลือเกิน

- 1) เก่า 2) มอซอ 3) ทрудโทรม 4) รุ่งรัง

ตอบ 3 คร่ำคร่า มีความหมายว่า เก่าแก่จนชำรุดทรุดโทรม

ข้อ 66 – 75 พิจารณาคำที่เกี่ยวข้องกับคำที่กำหนดให้

66. เดิน

- 1) ไม้เท้า 2) เท้า 3) รองเท้า 4) ถนน

ตอบ 2 สิ่งที่อยู่กับการเดิน คือ เท้า เพราะเราต้องใช้เท้าในการเดิน

67. ศพ

- 1) วัด 2) สุสาน 3) ป่าช้า 4) สัปเหร่อ

ตอบ 4 สัปเหร่อ คือ ผู้ที่ทำหน้าที่เผาหรือฝังศพ จึงเกี่ยวข้องกับศพมากที่สุด

68. ฟัน

- 1) หลับ 2) นอน 3) ตื่น 4) กลางคืน

ตอบ 1 คนเราจะฟันได้เมื่อนอนหลับ

69. ทอด

- 1) ไฟ 2) เตา 3) กระทะ 4) น้ำมัน

ตอบ 4 ทุกครั้งที่ประกอบอาหารโดยวิธีทอดจะต้องใช้น้ำมัน

70. จักษุแพทย์

- 1) ฟัน 2) ตา 3) แว่นตา 4) หมอ

ตอบ 2 จักษุแพทย์ คือ หมอรักษาตา ทันตแพทย์ คือ หมอรักษาฟัน

71. รัฐธรรมนูญ

- 1) กฎหมาย 2) ศาล 3)ชาติไทย 4) อัยการ

ตอบ 1 รัฐธรรมนูญเป็นกฎหมายสูงสุดที่ใช้ในการปกครองประเทศ

72. ชุมทาง

- 1) โทรเลข 2) รถยนต์ 3) รถไฟ 4) เรือ

ตอบ 3 ชุมทาง หมายถึง สถานีร่วมทางแยก ใช้เฉพาะกับรถไฟ

73. ครู

- 1) โรงเรียน 2) หนังสือ 3) ไม่เรียน 4) นักเรียน

ตอบ 4 ครูมีหน้าที่ในการสอนหนังสือและให้ความรู้แก่นักเรียน

74. กำไร

- 1) เงินลงทุน 2) สินค้า 3) ค่าขาย 4) ตลาด

ตอบ 3 กำไร คือ เงินที่ได้มาจากการทำการค้า โดยหักส่วนของต้นทุนออกแล้ว

75. แม่เลี้ยง

- 1) พี่ชาย 2) ลูก 3) พี่สะใภ้ 4) พ่อ

ตอบ 4 แม่เลี้ยง คือ ผู้หญิงที่ไม่ใช่แม่ของเรา ซึ่งแต่งงานกับพ่อเรา

ข้อ 76 - 77 พิจารณาเลือกข้อความที่ไม่เข้าพวก

76. 1) กระโดดข้ามก็ได้ 2) มุดไปสิ
 3) กลานไปดีกว่า 4) ลอดไปเถอะ

ตอบ 1 กระโดดข้าม เป็นการพุ่งตัวไปข้างหน้าอย่างรวดเร็ว 2) 3) และ 4) เป็นเรื่องเกี่ยวกับการลอดก้มต่ำ

77. 1) กินอยู่พัวชาย 2) กินจูบจิบ
 3) กินอยู่กับปากอกอยู่กับท้อง 4) กินล้างกินผลาญ

ตอบ 3 กินอยู่กับปากอกอยู่กับท้อง เป็นสำนวนความหมายว่า รู้ดีอยู่แล้วแต่แสดง ทำเป็นไม่รู้

- 1) กินอยู่พัวชาย มีความหมายว่า กินอย่างอึดหน้าสำราญ

2) กินจุบจิบ มีความหมายว่า กินพร่ำเพรื่อทีละเล็กละน้อย

4) กินล้างกินผลาญ มีความหมายว่า กินทิ้งกินขว้าง

ใช้ข้อความต่อไปนี้ตอบคำถาม 78 - 80

คุณแม่พูดว่าคุณน้ำควรรู้จักยืดหยุ่นตัวเองอีกสักนิด เพราะบางครั้งคุณน้ำก็ทำอะไรตึงเกินไป คนเราต้องรู้จัก..... ให้เข้ากับสถานการณ์ต่างๆ ให้ได้ เพื่อให้ต้นมันอยู่รอดในชีวิต เหมือนต้นไม้บางชนิดที่มีการสลัดใบ ลดการคายน้ำเพื่อให้ต้นของมันอยู่รอด เช่น ต้นจิว นุ่น ถันทม เป็นต้น

78. คำใดควรเติมลงใน.....

- 1) เรียนรู้ 2) ปรับตัว 3) ทำใจ 4) หาความรู้

ตอบ 2 ปรับตัว คือ การทำตัวให้เข้ากับสถานการณ์หรือสิ่งแวดล้อม

79. คุณแม่มีจุดประสงค์ใดในการพูด

- 1) แนะนำ 2) สั่งสอน 3) ตักเตือน 4) ว่ากล่าว

ตอบ 1 สั่งสอนได้จากประโยคที่ว่า “คุณแม่พูดว่าคุณน้ำควรร”

80. คุณแม่เปรียบเทียบความยืดหยุ่นเหมือนกับสิ่งใด

- 1) สถานการณ์ต่างๆ 2) ความอยู่รอดในชีวิต
3) ต้นไม้ที่มีการสลัดใบ 4) ตัวของน้ำ

ตอบ 3 สักเกตได้จากคำว่า เหมือน

ข้อ 81 – 82 เรียงข้อความที่กำหนดให้ได้ใจความสมบูรณ์ตามหลักภาษา

81. ก. ด้วยยินดีในคุณค่าของตัวเอง

ข. ถิ่นอยู่อาศัยฉันอยากเป็นเช่นสายน้ำ

ค. คอยโอบเอื้อประโยชน์สุขทุกชีวิต

ง. ที่เลิศล้ำศรัทธาทำหน้าที่

1) ง., ก., ค., และ ข.

2) ก., ง., ค. และ ข.

3) ค., ก., ง., และ ข.

4) ข., ง., ค., และ ก.

ตอบ 4

ฉันอยากอยู่ฉันอยากเป็นเช่นสายน้ำ

ที่เลิศล้ำศรัทธาทำหน้าที่

คอยโอบเอื้อประโยชน์สุขทุกชีวิต

ด้วยยินดีในคุณค่าของตัวเอง

82. ก. คุณตาบอกว่าชอบบทกลอนที่ท่านพุทธทาสแต่งไว้เรื่อง การ การปล่อยวาง

ข. คุณตาชอบอ่านหนังสือธรรมะ

ค. ไม่ซัดซิด ถือมัน หรือถือ “ตัวกู ของกู” ทำให้เกิดความทุกข์

ง. โดยเฉพาะหนังสือธรรมะของท่านพุทธทาสภิกขุ

1) ข., ง., ก. และ ค.

2) ค., ก., ง. และ ข.

3) ก., ง., ค., และ ข.

4) ง., ข., ก. และ ค.

ตอบ 1 คุณตาชอบอ่านหนังสือธรรมะ โดยเฉพาะหนังสือธรรมะของท่านพุทธทาสภิกขุ คุณตาบอกว่าชอบบทกลอนที่ท่านพุทธทาสแต่งไว้เรื่อง การปล่อยวาง ไม่ซัดซิด ถือมัน หรือ ถือ “ตัวกู ของกู” ทำให้เกิดความทุกข์

83. จากบทกลอนสันนิษฐานว่าน่าจะมีบรรยากาศอย่างไร

ถึงจะขอมอมอดไม่เอนเอื้อม

ก็ไม่เสื่อมขาดคิดพิสมัย

จะฝังรักสลับกรุมไว้ภายใน

น่าน้อยใจกลับมาพาเจ้าตาย

อันความผิดของพินี้เหลือล้ำ

ให้ชอกช้ำแสนวิตกกอสลาย

ครวญพลางทางทุ่มทอดกาย

กอดศพโหมฉายเข้าโศกา

1) เจียบเหงา

2) โศกเศร้า

3) ร้าแห่ว

4) โดดเดี่ยว

ตอบ 2 จากวรรคที่ว่า ให้ชอกซ้าแสนวิตกกอกสลาย คราญพลางทางท่มทอตกาย กอดศพโณมฉายเข้าโสกา

84. สิ่งใดเปรียบได้ดั่งชุมทรัพย์

1) ความอดกลั้น

2) ความสำเร็จ

3) การชวนชวาย

4) ความบากบั่น

ตอบ 4 ความเพียร มีความหมายว่า บากบั่น พยายาม

85. คำว่า “โกฏิ” มีความหมายอย่างไร

1) ที่สำหรับใส่กระดูกคนที่ตาย

2) มาตรฐาน เท่ากับ 10 ล้าน

3) ความภาคภูมิใจ

4) สมบัติที่เก็บไว้

ตอบ 2

86. คำในข้อใดมีความหมายเดียวกับ “ดวงอาทิตย์”

1) บิตุเรศ

2) ทินกร

3) ไพรวัน 4) ชาลาลัย

ตอบ 2 บิตุเรศ มีความหมายว่า ฟอ

ไพรวัน มีความหมาย ป่า

ชาลาลัย มีความหมายว่า น้ำ

87. คำในข้อใดมีความหมายไม่เข้าพวก

1) หายหัว 2) หายหน้า

3) หายขาด

4) หายตัว

ตอบ 3 หายขาด มีความหมาย หายสนิท 1), 2), และ 4) หายหัว หายหน้า และหายตัว มีความหมายว่า หลบไปไม่ให้เจอ

ขอให้ทุกคนโชคดี ในการสอบ <http://www.testthai1.com>